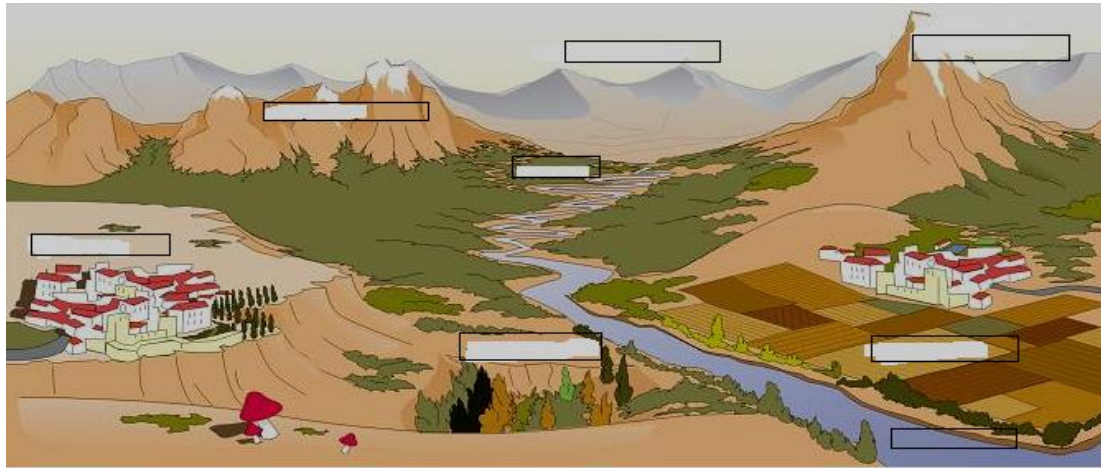


EVALUACION DE CIENCIAS SOCIALES

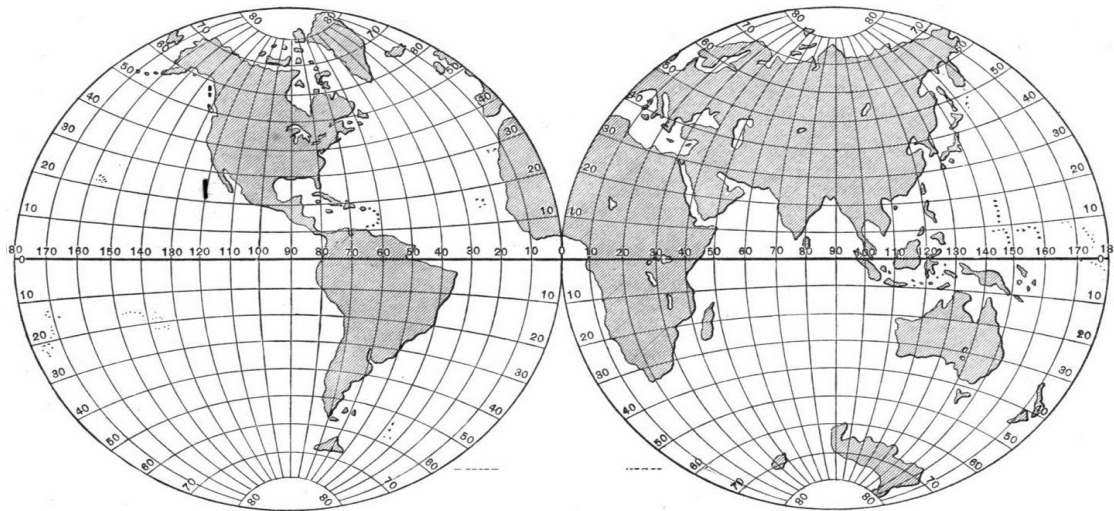
ESTUDIANTE: \_\_\_\_\_

GRADO: \_\_\_\_\_ FECHA: \_\_\_\_\_

1. Complete el dibujo con los nombres de las formas del relieve correspondientes.



2. Ubique en el mapamundi: Ecuador, Greenwich, Trópico de Cáncer, Trópico de Capricornio, CP Ártico, CP Antártico. Observe bien las medidas.



3. Ubique en el mapa:

- C. central
- C. oriental,
- C. occidental,
- SN Santa Martha,
- S. Macarena,
- S. Darién,
- S. Chibiriquete,
- V. Galeras,
- N. Tolima,
- N. Huila,
- N. Ruiz,
- R. Magdalena,
- R. Cauca
- R. Atrato
- Llanuras orientales
- Llanuras del Pacifico
- Llanuras del Caribe
- Selvas Amazónicas
- S. Perijá
- R. Amazonas
- R. Putumayo
- Océanos
- Límites terrestres
- Puntos extremos





EVALUACION DE CIENCIAS SOCIALES No. 2 Periodo 2

ESTUDIANTE: \_\_\_\_\_

GRADO: \_\_\_\_\_ FECHA: \_\_\_\_\_

- Relaciona los biomas de mundo con sus características.
  - Tundra ( ) Escases de lluvias y altas temperaturas.
  - Bosques de coníferas o taiga ( ) Temperaturas altas y abundantes lluvias.
  - Estepa ( ) Temperatura elevada con una época lluviosa y otra seca.
  - Desierto ( ) Veranos frescos e inviernos muy fríos. A 50° - 60° latitud.
  - Selva tropical ( ) Altas temperaturas, pluviosidad media.
  - Sabanas tropicales ( ) Inviernos largos, temperaturas por debajo de 0°.
- Relaciona los biomas del mundo con las especies animales y vegetales que habitan en ellos.
  - Tundra ( ) Musgos, algas, líquenes. Buey almizclero, caribú y reno.
  - Bosques de coníferas o taiga ( ) Vegetación herbácea, pocos árboles. Bisonte y gacela.
  - Estepa ( ) Abedules, pinos, abeto. Ardillas, halcones, lince.
  - Desierto ( ) Altas hierbas, pequeños bosques. Cebras, león, guepardo.
  - Selva tropical ( ) Muchísima vegetación. Monos, aves, serpientes.
  - Sabanas tropicales ( ) Escasa vegetación. Alacranes, avestruces, ratas, víboras.
- Relaciona las zonas climáticas de Colombia con sus características:
  - Clima tropical de montaña ( ) Más de 27°C. Mucha humedad, abundantes lluvias.
  - Clima tropical de desierto ( ) Más de 24°C. Una época de lluvia y otra de sequía.
  - Clima tropical de estepa ( ) Altas temperaturas, poca vegetación. 5 meses de sequía.
  - Clima tropical de sabana ( ) Casi no llueve. Más de 29°C. Tierra reseca.
  - Selva tropical húmeda ( ) Allí el clima está determinado por la altura m.s.n. m.
- Relaciona las zonas climáticas de Colombia con los lugares donde se encuentran:
  - Clima tropical de montaña ( ) Alta Guajira.
  - Clima tropical de desierto ( ) Cordilleras, mesetas y valles de los Andes.
  - Clima tropical de estepa ( ) Bolívar, centro del llano, partes altas de las cordilleras.
  - Clima tropical de sabana ( ) Amazonas, Chocó, Magdalena medio, Serranía del Perijá.
  - Selva tropical húmeda ( ) Llanos orientales, llanuras del Caribe, valle del Cauca.

- Relaciona los pisos térmicos con sus altitud y temperatura.
  - Paramo ( ) Entre los 2.000-3.000 m.s.n.m. De 10°-17°C
  - Cálido ( ) Más de 4.700 m.s.n.m. Temperaturas por debajo de 0°
  - Nevado ( ) Entre 0 – 1.000 m.s.n.m. Más de 24°C
  - Templado ( ) Entre 3.000 – 4.000 m.s.n.m. Menos de 10°C
  - Frío ( ) Entre 1.000 – 2.000 m.s.n.m. De 17° - 22°C
- Relaciona los pisos térmicos con lugares de Colombia.
  - Paramo ( ) Pisba, Papas, Chingaza.
  - Cálido ( ) Bogotá, Tunja, Pasto.
  - Nevado ( ) Ibagué, Medellín, Cali.
  - Templado ( ) Villavicencio, Neiva, Barranquilla.
  - Frío ( ) Ruiz, Santa Isabel, Cocuy.

Responde las preguntas, utilizando argumentos válidos y firmes. (basados en las explicaciones de clase)  
 Utilice si es posible, gráficas que le ayuden a explicar sus argumentos. (Utilice el envés de la hoja)

- ¿Por qué en Colombia no hay estaciones?  
 \_\_\_\_\_  
 \_\_\_\_\_
- ¿Por qué el clima de Colombia no es cálido en todo el territorio nacional?  
 \_\_\_\_\_  
 \_\_\_\_\_
- ¿Por qué el clima de Colombia debería ser cálido en todo el territorio nacional?  
 \_\_\_\_\_  
 \_\_\_\_\_
- Explique los factores que influyen en el clima de Colombia.  
 \_\_\_\_\_  
 \_\_\_\_\_

CONDICIONES: Son 35 respuestas.

SUPERIOR: 30-35. ALTO: 25-29. BASICO: 18-24. BAJO: 17 o menos.



EVALUACION DE CIENCIAS SOCIALES No. 3 Periodo 2

ESTUDIANTE: \_\_\_\_\_

GRADO: \_\_\_\_\_ FECHA: \_\_\_\_\_

1. Ubica en el mapa, las vertientes y los principales ríos del país.

- Magdalena
- Cauca
- Baudó
- Atrato
- Mira
- Patía
- Ranchería
- San Juan
- Cesar
- León
- Sinú
- Catatumbo
- Orinoco
- Arauca
- Meta
- Vichada
- Guaviare
- Amazonas
- Guainía
- Vaupés
- Putumayo
- Caquetá
- V. Pacífico
- V. Caribe
- V. Orinoco
- V. Amazonas



2. Une las columnas

1. Marca límites entre Colombia, Venezuela y Brasil ( ) Río San Juan
2. La hoya de este río es una región rica en ganado y muy fértil. ( ) Río Orinoco
3. El más importante y caudaloso del Pacífico Colombiano ( ) Río Meta
4. Hoya rica en oro y maderas. Región muy fértil y húmeda. ( ) Río Amazonas
5. Hoya rica en maderas, banano y palma africana. ( ) Río Magdalena
6. Marca límites entre Colombia y Venezuela. Ocupa el tercer puesto en caudal en el continente. ( ) Río Catatumbo
7. Principal río de los llanos orientales. Navegable desde Pto. López 900 Km. ( ) Río Guainía
8. Se considera el río de la patria, es el de mayor longitud en el país y el más importante para el transporte fluvial. ( ) Río León
9. Nace en la S. Perijá. Hoya con gran riqueza petrolífera. ( ) Río Atrato
10. El más caudaloso del mundo, el segundo más largo. Con una profundidad de 75m navegable en el 90% extensión ( ) Río Sinú

3. Completa la tabla:

VERTIENTE	CARACTERÍSTICAS DE LA VERTIENTE	RIOS QUE FORMAN PARTE DE LA VERTIENTE



EVALUACION DE CIENCIAS SOCIALES No. 3 Periodo 2

ESTUDIANTE: \_\_\_\_\_

GRADO: \_\_\_\_\_ FECHA: \_\_\_\_\_

1. Usando convenciones, ubica en el mapa las zonas de producción de:

- Café
- Petróleo
- Gas Natural
- Esmeraldas
- Flores
- Ganado Vacuno
- Ganado Porcino
- Banano
- Caña de Azúcar
- Papa
- Carbón



3. Completa el cuadro con información de los productos que se exportan en nuestro país:

PRODUCTO COLOMBIANO	SECTOR DEL QUE PROVIENE	LUGAR DEL PAIS QUE LO PRODUCE	PAIS AL QUE SE EXPORTA

4. Escribe tres consecuencias de la explotación de oro a cielo abierto en la mina La Colosa:

C1: \_\_\_\_\_

C2: \_\_\_\_\_

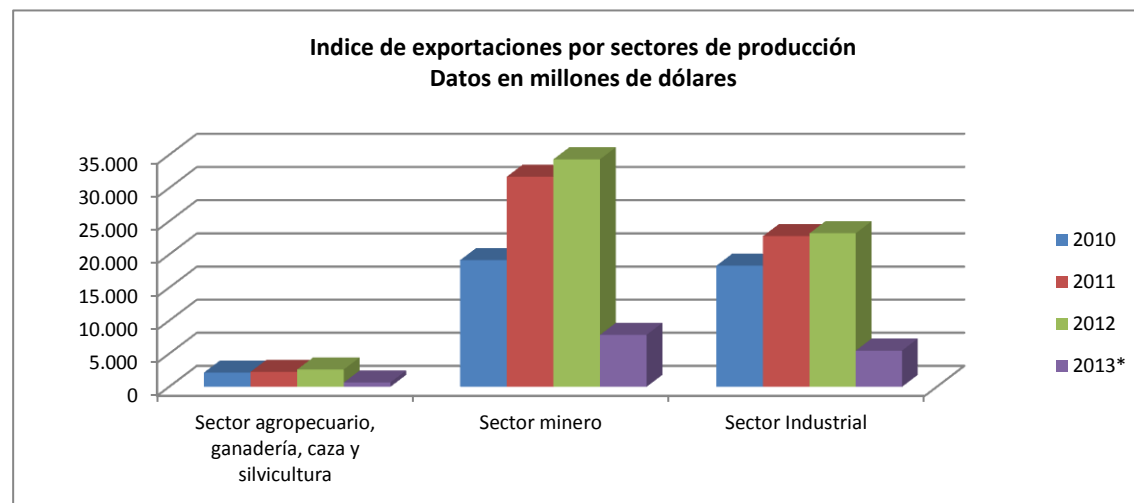
C3: \_\_\_\_\_

5. Explica en tus propias palabras la siguiente frase del periodista Mauricio Alvear Ramírez: "El reto es lograr una conexión armónica entre el sistema económico y el sistema natural".

\_\_\_\_\_

\_\_\_\_\_

6. Analiza la siguiente gráfica que presenta el índice de exportaciones de últimos años, organizados por sectores productivos. Establece tres conclusiones. (Utiliza el envés de la hoja)



2. Escribe las diferencias entre:  
 (Usa el envés de la hoja)

- a. Agricultura Empresarial y tradicional
- b. Ganadería Extensiva e Intensiva
- c. Recursos energéticos no renovables y los recursos mineros

